

小3 難関中学受験チャレンジテスト 社会

わかるかな? 47 都道府県 漢字で書いてみよう

小学4年生の社会科では、都道府県とどうふけんを学びます。むずかしい漢字が多いので、都道府県名とその形を今から学習していきましょう。

「小3難関中学受験チャレンジテスト」にも出題されます。

① ほっかいどう 北海道	⑩ いばらき 茨城県	⑱ ながの 長野県	⑳ やまなし 山梨県
② あおもり 青森県	⑪ さいたま 埼玉県	⑲ なぎさ 長崎県	㉑ ぎふ 岐阜県
③ あきた 秋田県	⑫ とうきょう 東京都	⑳ せいてつこう 静岡県	㉒ しまね 島根県
④ いわて 岩手県	⑬ かながわ 神奈川県	㉑ あいち 愛知県	㉓ ひろしま 広島県
⑤ やまがた 山形県	⑭ ちば 千葉県	㉒ しが 滋賀県	
⑥ みやぎ 宮城県	⑮ にいがた 新潟県	㉓ みえ 三重県	
⑦ ふくしま 福島県		㉔ なら 奈良県	
⑧ ぐんま 群馬県		㉕ わかやま 和歌山県	
⑨ とちぎ 栃木県		㉖ おおさか 大阪府	
			㉗ おおいた 大分県
			㉘ やまぐち 山口県
			㉙ かがわ 香川県
			㉚ とくしま 徳島県
			㉛ えひめ 愛媛県
			㉜ こうち 高知県
			㉝ ふくおか 福岡県
			㉞ ちゅうごく 沖縄県



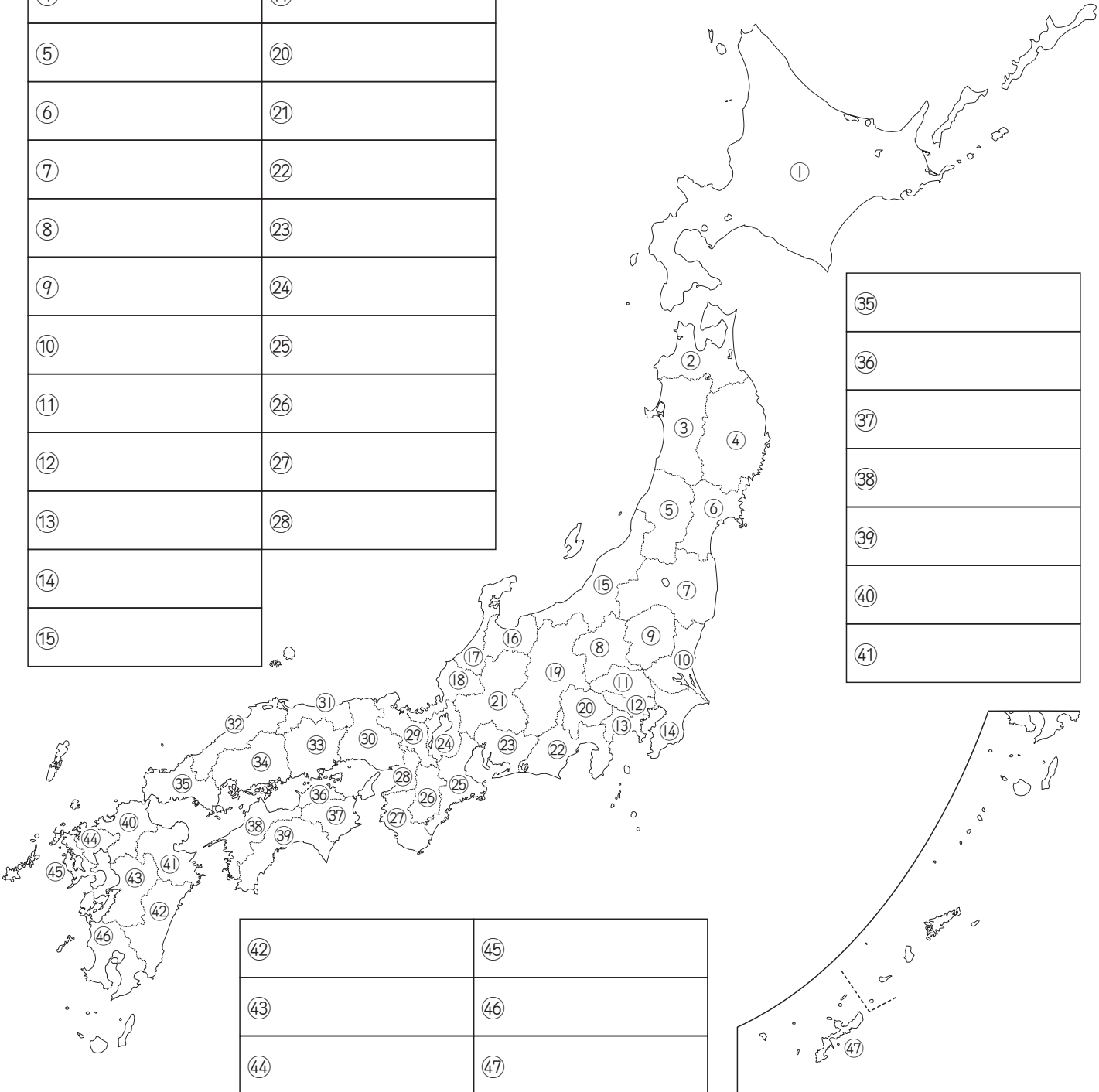
② 宮崎県	⑤ 長崎県
③ 熊本県	⑥ 鹿児島県
④ 佐賀県	⑦ 沖縄県

問題 1

つぎ とどうふけん
 次の地図中の①～④7の都道府県名を答えなさい。

①	⑬	⑳	㉓
②	⑭	㉔	㉕
③	⑮	㉖	㉗
④	⑯		
⑤	⑰		
⑥	⑱		
⑦	㉑		
⑧	㉒		
⑨	㉔		
⑩	㉕		
⑪	㉖		
⑫	㉗		
⑬	㉘		
⑭			
⑮			

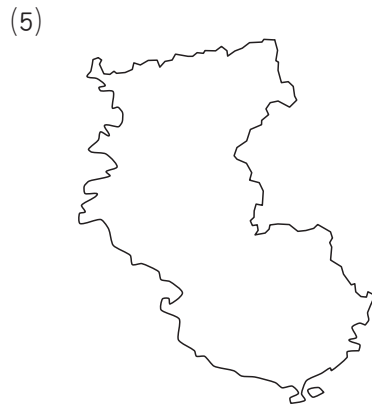
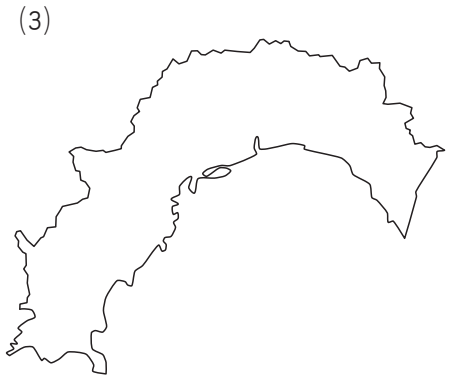
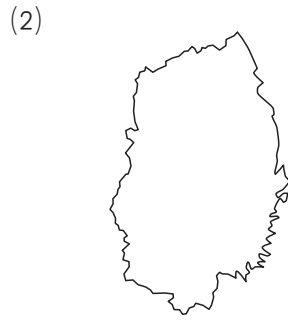
㉙
㉚
㉛
㉜
㉝
㉞
㉟
㊱
㊲



㊳	㊴
㊵	㊶
㊷	㊸

問題 2

つぎ
次の(1)～(6)の地図は、47の都道府県のどれかのもので、それぞれの都道府県名を
かん
漢字で答えなさい。



(1)		(2)		(3)	
(4)		(5)		(6)	

問題 3 答え

- (1) 山口県 (2) 埼玉県 (3) 茨城県
(4) 鳥取県 (5) 群馬県 (6) 福井県

問題3

つぎ
次の(1)~(6)の地図は、47の都道府県のどれかのもので、それぞれの都道府県名を
漢字で答えなさい。

(1)



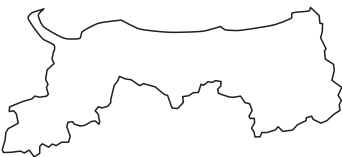
(2)



(3)



(4)



(5)



(6)



(1)		(2)		(3)	
(4)		(5)		(6)	

問題2 答え

- (1) 千葉県 (2) 岩手県 (3) 高知県
(4) 東京都 (5) 和歌山県 (6) 神奈川県