



【漢字】

一線の漢字を書けるように練習しておきましょう。  
読み方にも注意がひつようです。

- 01. 昨年さくねんの秋に転校した。
- 02. 欠点けってんを改あらためる。
- 03. このあたりの海は浅あせい。
- 04. クラスで送別会そうべつかいを行う。
- 05. 無理むりを言ってこまらせる。
- 06. 荷物の重量じゅうりょうをはかる。
- 07. トンネルが海底かいていを通る。
- 08. 室内の温度を調節ちようせつする。
- 09. 的まとをいたたことを言う。
- 10. 新聞を刷する。
- 11. 毎朝散歩さんぽをする。
- 12. 漁港ぎよこうがにぎわう。
- 13. 位置いちが少しずれた。
- 14. おじさんから小包こづつみがとどく。

- 15. いたずらを反省はんせいした。
- 16. 計画けいかくを察知さつちする。
- 17. いそいで伝達でんたつする。
- 18. 町の中を案内あんないする。
- 19. 試合の勝敗しょうはいが決まる。
- 20. 新しい住所を覚おぼえる。
- 21. 合唱がっしやうの練習をする。
- 22. 冷たい水を飲む。
- 23. 努力どりよくがみのる。
- 24. 戦争せんそうには反対する。
- 25. 栄養えいようがある食品。
- 26. カエルが王子に变身へんしんした。
- 27. 平和を追求ついきゆうする。
- 28. 街頭がいてうでアンケートに答える。
- 29. 暗算には自信じしんがある。
- 30. おどろきで言葉を失うしなう。

【都道府県名】

まちがいやすい都道府県の漢字です。こまかい部分もきちんと書けるようにしておきましょう。

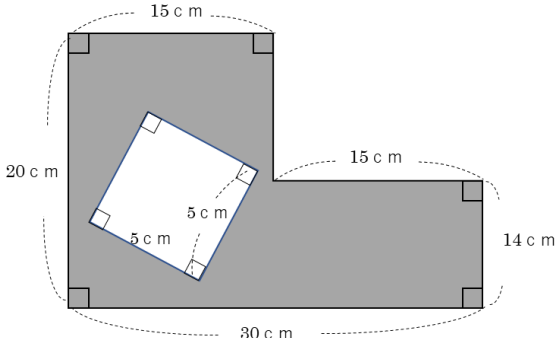
- 茨城いばら県
- 栃木とちぎ県
- 新潟にいがた県
- 岐阜ぎふ県
- 滋賀しが県
- 徳島とくしま県
- 愛媛えひめ県
- 宮崎みやざき県
- 鹿児島かごしま県
- 沖縄おきなわ県

【部首と部首名】

どの漢字がどの部首か、組み合わせをおぼえておきましょう。

- 01. うかんむり…家・安・客
- 02. さんずい…泳・浴・沖
- 03. れんが(れっか)
  - …照・熱・然
- 04. くにかまえ…凶・園・国
- 05. しんによう…遠・通・道
- 06. まだれ
  - …府・広・店

算数のテストは以下の範囲から出題します。学校の教科書や標準新演習（栄光ゼミナールのテキスト）を使って、しっかり出題範囲を勉強してテストにチャレンジしましょう。問題は全部で20問出題します。そのうち14問が計算問題です。基本的な計算は多いですが、素早く処理をすることが求められます。制限時間を決めて、計算練習しましょう。当日の試験時間は20分です。

範囲	出題内容	出題例と対策
計算問題	計算の順序 小数のたし算・ひき算 大きな数のわり算	<p>【出題例】次のような問題を出題します。</p> <p>次の計算をしなさい。</p> <p>(1) <math>10 - 2 \times 4</math></p> <p>(2) <math>5 \times 4 \div 2</math></p> <p>(3) <math>72 \div (24 \div 8)</math></p> <p>(4) <math>12.1 + 4.9</math></p> <p>(5) <math>326 \div 18</math> (商は一の位まで求め、あまりも求めなさい。)</p> <p>【ポイント】次の練習をしておきましょう。</p> <ul style="list-style-type: none"> <li>・ <math>+</math> <math>-</math> <math>\times</math> <math>\div</math> が混ざった計算問題。</li> <li>・ ( ) がある計算問題。</li> <li>・ 小数のたし算・ひき算のひっ算では、小数点をそろえて書くこと。</li> <li>・ 大きな数のわり算のひっ算</li> </ul>
	□を求める問題	<p>【出題例】次のような問題を出題します。</p> <p>□にあてはまる数を求めなさい。</p> <p><math>(200 - 50) \div \square = 5</math></p> <p>【ポイント】次の練習をしておきましょう。</p> <ul style="list-style-type: none"> <li>・ 計算の順序を考えながら逆算していく問題。</li> <li>・ いろいろなタイプの□を求める計算問題。</li> </ul>
図形問題	面積を求める	<p>【出題例】次のような問題を出題します。</p> <p>次の問いに答えなさい。</p> <p>(1) たてが2cm、横が3cmの長方形の面積は何<math>cm^2</math>ですか。</p> <p>(2) 次の図形の色のついた部分の面積は何<math>cm^2</math>ですか。</p>  <p>【ポイント】次の練習をしておきましょう。</p> <ul style="list-style-type: none"> <li>・ 長方形・正方形の面積の求め方。</li> <li>・ 長方形同士をたしたり、ひいたりして面積を求める。</li> </ul>

次のような問題を出します。

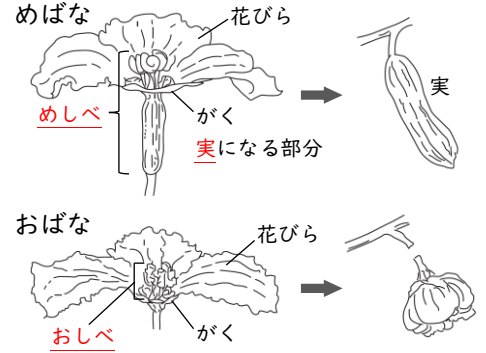
- ①英語を聞いて日本語で意味を書く問題
- ②書いてある英語の意味を日本語で書く問題
- ③アルファベットの小文字を4線に書く問題



six	6	face	顔
seven	7	ear	耳
eight	8	nose	鼻
nine	9	mouth	口
ten	10	shoulder	かた
school	学校	hand	手
classroom	教室	salad	サラダ
pool	プール	sausage	ソーセージ
head	頭	steak	ステーキ
eye	目	cake	ケーキ

【1】実になる花とならない花

ツルレイシやヘチマには、「おばな」「めばな」とよばれる2つの種類の花があります。めばなの元はふくらんでいます。ツルレイシやヘチマの実は、「めばな」の元のふくらんだところがさらに大きくなったものです。「おばな」には実ができません。



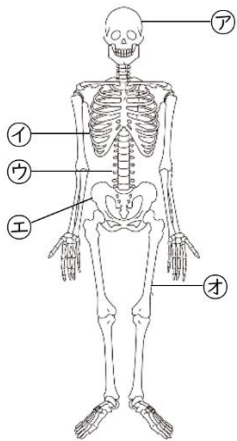
【2】わたり鳥

ツバメは、春に南のほうからやってきて、日本で2度ほどひなを育て、秋には南のほうへもどっていきます。一方、ハクチョウやオナガガモは、秋に北のほうからやってきて、日本で冬をすごします。

このように、長いきよりをい動し、季節によってすごすところを変える鳥を「わたり鳥」といいます。

日本では、ツバメは日本で夏をすごすので、「夏鳥」とよばれます。また、ハクチョウやオナガガモは日本で冬をすごすので、「冬鳥」とよばれます。

【3】いろいろなほね



- ア…「**頭がい**」 頭の中にあるのを守っているほね。
- イ…「**ろっこつ**」 体の中のはいや心ぞうを守っている、12対24本のほね。
- ウ…「**せきつい (せぼね)**」 体をささえているほね。短いほねが重なっているのので、前後左右に、いろいろな動きができる。
- エ…「**こつばん**」 体の中のちょうなどをささえているほね。女の人のこつばんは、おなかの中で大きくなる赤ちゃんをささえられるように、広がった形になっている。
- オ…「**大たいこつ**」 人の体の中でもっとも大きく、じょうぶなほね。

【4】毎日変わる月の形

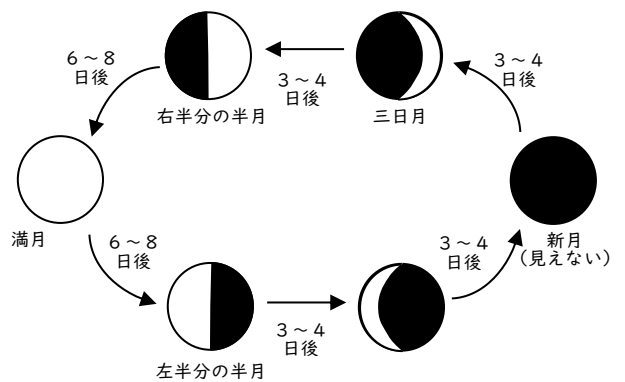
月は、毎日少しずつ形を変えます。約30日かけてはじめの形にもどります。月が見えない新月を1日目とすると、三日月は3日目の月で、15日目は十五夜とよばれ、このころに満月となります。

●満月の動き

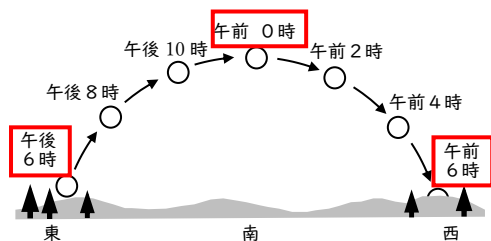
夕方、東の方から出て、南の方に向かって上がり、真南にきたとき(午前0時ごろ)、いちばん高くなる。そのあと、西に向かって低くなっていき、朝、西の方にしずむ。

●右半分の半月の動き

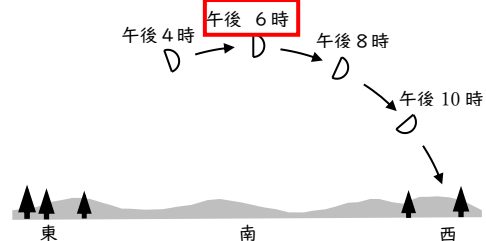
東の方から出て、南の空を通り、西の方にしずむ。夕方に見える位置は、南の空である。



[満月の動き]



[右半分の半月の動き]



# 基礎学力コンテスト 2024 冬 小4 社会 出題範囲



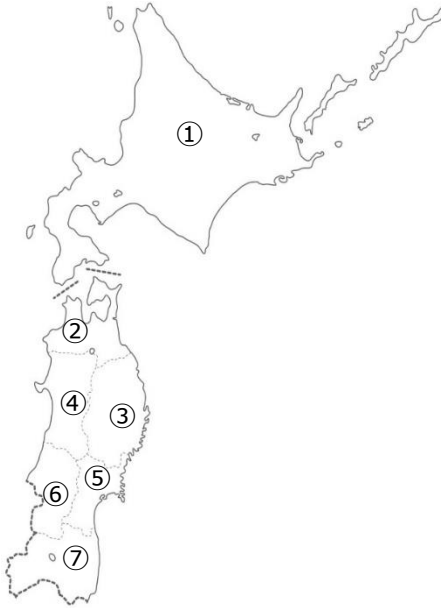
栄光ゼミナール

●社会のテストはこの中から出題されます。地図に当てはまる都道府県や都道府県庁所在地の名前を選ぶ問題や、説明に当てはまる都道府県を地図から選ぶ問題が出されます。

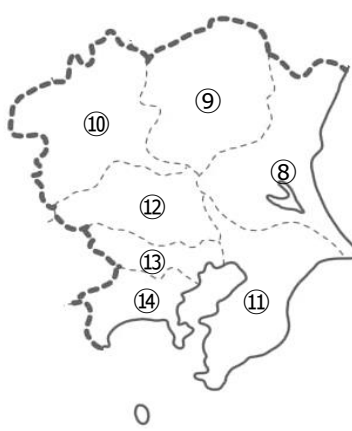
地方		都道府県名	都道府県庁所在地	地方		都道府県名	都道府県庁所在地	広い都道府県	
ほっかいどう 北海道	①★	ほっかいどう 北海道	さっぽろし 札幌市	きんき 近畿	⑳★	みえけん 三重県	つし 津市	1位 ほっかいどう 北海道	
	とうほく 東北	②	あおもりけん 青森県		青森市	㉑	しがけん 滋賀県	おおつし 大津市	2位 いわてけん 岩手県
		③	いわてけん 岩手県		もりおかし 盛岡市	㉒	きょうとふ 京都府	京都市	3位 ふくしまけん 福島県
		④	あきたけん 秋田県		秋田市	㉓	ならけん 奈良県	奈良市	4位 ながのけん 長野県
		⑤★	みやぎけん 宮城県		せんだいし 仙台市	㉔	わかやまけん 和歌山県	和歌山市	5位 にいがたけん 新潟県
		⑥	やまがたけん 山形県		山形市	㉕	おおさかふ 大阪府	大阪市	せまい都道府県
		⑦	ふくしまけん 福島県		福島市	㉖	ひょうごけん 兵庫県	こうべし 神戸市	1位 かがわけん 香川県
かんとく 関東	⑧	いばらきけん 茨城県	みとし 水戸市	ちゅうごく 中国	㉗	とっとりけん 鳥取県	鳥取市	2位 おおさかふ 大阪府	
	⑨	とちぎけん 栃木県	うつのみやし 宇都宮市		㉘	おかやまけん 岡山県	岡山市	3位 とうきょうと 東京都	
	⑩★	ぐんまけん 群馬県	まえばしし 前橋市		㉙	しまねけん 島根県	まつえし 松江市	4位 おきなわけん 沖縄県	
	⑪	ちばけん 千葉県	千葉市		㉚	ひろしまけん 広島県	広島市	5位 かながわけん 神奈川県	
	⑫	さいたまけん 埼玉県	さいたま市		㉛	やまぐちけん 山口県	山口市	海に面して いない県	
	⑬	とうきょうと 東京都	東京		㉜	かがわけん 香川県	たかまつし 高松市		
	⑭	かながわけん 神奈川県	横浜市		㉝	とくしまけん 徳島県	とくしまし 徳島市	とちぎけん 栃木県	
ちゅうぶ 中部	⑮	にいがたけん 新潟県	新潟市	しこく 四国	㉞★	えひめけん 愛媛県	まつやまし 松山市	さいたまけん 埼玉県	
	⑯	とやまけん 富山県	富山市		㉟	こうちけん 高知県	高知市	ぐんまけん 群馬県	
	⑰	いしかわけん 石川県	金沢市		㊱	ふくおかけん 福岡県	福岡市	山梨県	
	⑱	ふくいけん 福井県	福井市		㊲	さがけん 佐賀県	佐賀市	ながのけん 長野県	
	⑲	やまなしけん 山梨県	こうふし 甲府市		㊳	ながさきけん 長崎県	長崎市	ぎふけん 岐阜県	
	⑳	しずおかけん 静岡県	静岡市		㊴	おおいたけん 大分県	大分市	しがけん 滋賀県	
	㉑	ながのけん 長野県	長野市		㊵	くまもとけん 熊本県	熊本市	ならけん 奈良県	
	㉒	ぎふけん 岐阜県	岐阜市		㊶	みやざきけん 宮崎県	宮崎市		
	㉓★	あいちけん 愛知県	名古屋市		㊷	かごしまけん 鹿児島県	鹿児島市		
			きゅうしゅう 九州	㊸★	おきなわけん 沖縄県	なはし 那覇市			

★がついているところは必ず出題されます。確実にできるようにしておきましょう。

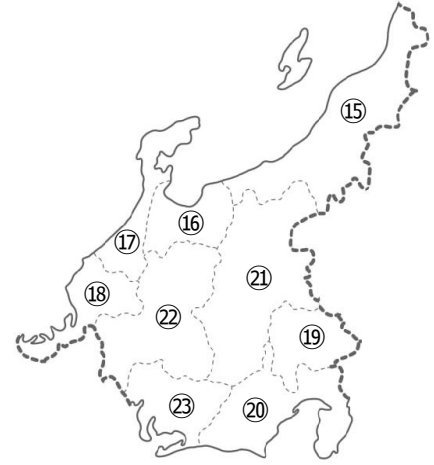
北海道・東北地方



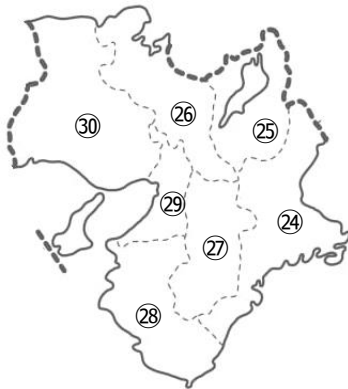
関東地方



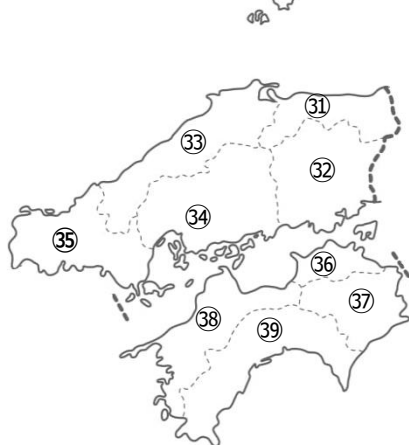
中部地方



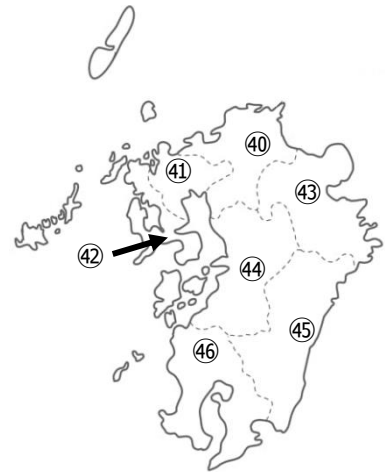
近畿地方



中国・四国地方



九州地方

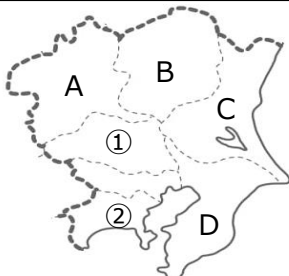


【例題】このような問題を解けるようにしておきましょう。

(1) 地図中の①の都道府県名を次の中から選び、記号で答えなさい。

ア 茨城県    イ 埼玉県    ウ 栃木県    エ 群馬県

(2) 茨城県を地図中のA～Dから選び、記号で答えなさい



こんな学習方法もあります

◎自分の部屋・リビングなどに地図をはって、毎日ながめます。

◎スマホやタブレットのアプリで楽しみながら勉強するのも効果的です。